



GUÍA DE ACTIVIDADES DE ED. MATEMÁTICA

Nombre _____ Curso: 2ºA Fecha: 16/3/2020

Módulo


1

Números hasta el 100

Unidades, decenas y centenas

1. Encierra en grupos de 10 elementos y completa.


a.



Hay grupos de 10 elementos y elementos sin agrupar.

decenas y unidades.

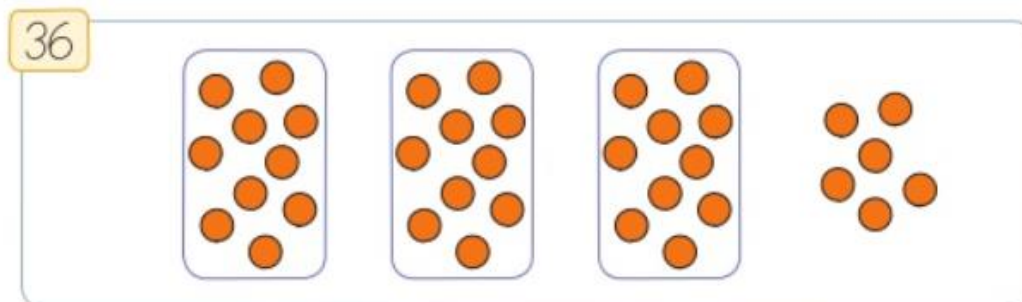
b.




Hay grupos de 10 elementos y elementos sin agrupar.

decenas y unidades.

2. Utiliza ● para representar los números en decenas y unidades. Guíate por el ejemplo.




3 decenas y 6 unidades.



decenas y unidades.



decenas y unidades.

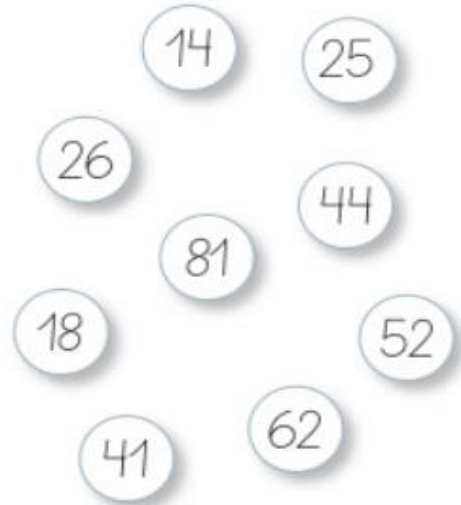


decenas y unidades.

Lectura de números del 0 al 100

3. Pinta del mismo color del casillero de la escritura con palabras, el número que corresponda.

- a. dieciocho
- b. veinticinco
- c. cuarenta y cuatro
- d. sesenta y dos
- e. catorce



4. Escribe con palabras los siguientes números.

- a. 86 ▶ _____
- b. 15 ▶ _____
- c. 73 ▶ _____
- d. 20 ▶ _____
- e. 90 ▶ _____
- f. 19 ▶ _____

Representación de números a partir de su valor posicional

5. Escribe la posición y el valor posicional del dígito destacado en cada número.

	Número	Posición	Valor posicional
a.	85		
b.	39		
c.	27		
d.	55		
e.	74		

6. Encierra los números como se pide.

a. Con una línea  si el valor posicional del dígito 3 es 30.

b. Con una línea  si el valor posicional del dígito 6 es 6.

39

61

16

26

6

37

3

7. Une el número con el valor posicional del dígito destacado.

28

75

42

66

6

20

2

60

7

70